


МИНИСТАРСТВО ПРОСВЕТЕ РЕПУБЛИКЕ СРБИЈЕ
И СРПСКО ГЕОГРАФСКО ДРУШТВО

ОПШТИНСКО ТАКМИЧЕЊЕ ИЗ ГЕОГРАФИЈЕ
ЗА 7. РАЗРЕД



Београд, 2010.



УПУТСТВО ЗА РАД

Пред вама је тест знања из географије за 7. разред. Питања обухватају градиво редовне и додатне наставе 5, 6. и 7. разреда. На крају сваког питања (број у загради) уписан је број могућих бодова којима се вреднују одговори.

На текстуална питања одговор је потребно написати читко, без прецртавања, обавезно хемијском оловком. Поједини задаци садрже вишеструки избор. Потребно је пронаћи тачан или тачне одговоре и заокружити слова које се налазе испред њих. Ако заокружите више одговора од траженог броја, задатак се неће признати. Код задатака типа допуњавања, захтев је дат у облику непотпуног исказа. Потребно је допунити или завршити реченице да би исказ био тачан и јасан. Код неких питања задаци су дати у две колоне. Ваш задатак је да повежете, тј. "спарите" податке из колоне, тако што ћете читко уписивати слова из једне колоне на линије које се налазе испред друге колоне (спаривања стрелицама или дописивање неће се вредновати). Код задатака где се тражи да упишете одговоре на линије, упишите их јасно и тачно, без накнадног прецртавања и дописивања одговора.

На директна питања потребно је одговорити кратко и јасно. Прецртавање или накнадно дописивање одговора се неће вредновати.

Време за решавање свих задатака је 90 минута. Уколико завршите раније, тихо и без ометања других такмичара можете изаћи из учионице.

Желимо вам пуно успеха у раду!

Задатке предложили:

мр Ана Милановић

мр Јелена Ћалић

Рецензент:

др Љиљана Живковић



1. Заокружите тачан одговор:

На којим координатама се налази Ојмјакон, најхладније место на Земљи?

- a) $11^{\circ} 22' N, 150^{\circ} 05' E$
- b) $89^{\circ} 31' N, 101^{\circ} 54' E$
- v) $44^{\circ} 49' N, 20^{\circ} 27' E$
- г) $63^{\circ} 27' N, 142^{\circ} 47' E$

(2)

2. Заокружите тачан одговор:

У коју од наведених држава бисте обавезно понели кишобран, уколико вам се пружи прилика да тамо отпутујете?

- a) Нигер
- b) Саудијска Арабија
- v) Екваторијална Гвинеја
- г) Мауританија

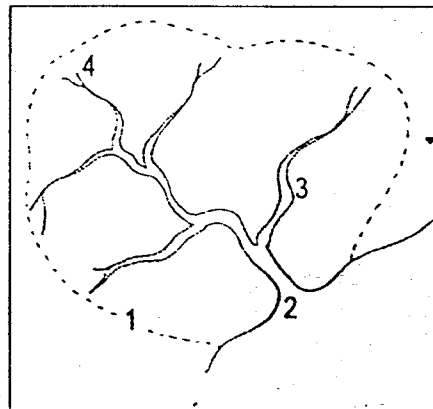
(2)

3. На линије поред следећих тврдњи упишите слово Т ако су тачне, или слово Н ако су нетачне:

- a) На зидним картама, појединачни континенти су најчешће приказани у размерима 1:25.000 или 1:50.000. _____
- b) Батиметријска скала, која означава дубине мора и океана, на физичко-географским картама је представљена различитим нијансама зелене боје. _____
- v) Размер је један од математичких елемената карте. _____
- г) Планови градова штампају се у крупним размерима. _____

(2 x 4 = 8)

4. На линије испред наведених елемената речног слива упишите бројеве којима су ти елементи приказани на слици.



- _____ извор
- _____ притока
- _____ ушће
- _____ развође (вододелница)

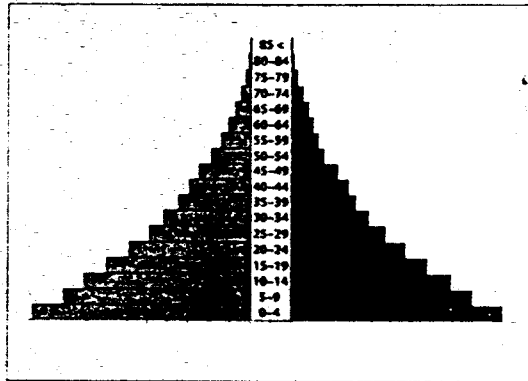
(2 x 4 = 8)



5. Заокружите тачан одговор.

На коју државу би могла да се односи старосна пирамида приказана на слици?

- а) Нигерија
- б) Јапан



(2)

6. Која држава се налази на полуострву Мала Азија? _____

(2)

7. Допуните реченице:

Систематско одвајање црног становништва од беле мањине у Јужноафричкој Републици, присутно до деведесетих година 20. века, било је познато под именом _____ 1994. године одржани су први слободни _____, на којима је за новог председника изабран борац за људска права Нелсон _____, а одвајање становништва званично је укинато.

(2 x 3 = 6)

8. Заокружите тачан одговор.

Марија је прешла растојање од места А до тачке Б од 1000 m за 10 минута. Посматрајући карту измерила је да је растојање између та два места на карти 10 cm. То значи да је Марија посматрала:

- а) топографску карту
- б) план града
- в) општу географску карту

(3)

9. Иза тачних тврдњи упишите слово Т, а иза нетачних Н:

- а) Плутон и Месећ су иста врста небеских тела. ____
- б) Растојање од Сунца до Земље у светлосним годинама је исто као од Земље до Плутона. ____
- в) Плутон не припада Млечном путу ____
- г) Плутон се креће по путањи око Сунца. ____

(2 x 4 = 8)

10. Заокружите тачан одговор:

Да ли се може копненим путем, користећи само теренски циљ, отпутовати из Каира у Тел Авив?

- а) да
- б) не

(2)



11. Како се назива највећи упоредник на Земљи? _____ (2)

12. Допуните реченицу:

Тибести је _____ и налази се на _____ континенту, а Тибет је _____ и налази се на _____ континенту.

(2 x 4 = 8)

13. Допуните реченицу:

Највеће по површини језеро у Африци је _____.

(2)

14. Иза тврдњи које се односе на Африку, упишите: АФРИКА, а иза тврдњи које се односе на Азију, упишите: АЗИЈА.

а) Јужни повратник пролази преко територије овог континента. _____

б) На овом континенту налази се најдубље језеро на свету. _____

в) Обилазећи овај континент туристи могу срести Бербере. _____

г) На овом континенту налази се најмноогољуднија земља на свету. _____

(2 x 4 = 8)

15. Заокружите тачан одговор:

Либериа је у 20. веку била:

а) енглеска колонија

б) немачка колонија

в) независна земља

г) припојена територија Шпаније

(2)

16. Повежите географске облике и процесе којима су они настали:

а) дина у Саудијској Арабији _____ акумулација муља

б) катаракта на Нилу _____ еолска ерозија

в) делта Брамапутре и Ганга _____ абразија

г) морена на Каракоруму _____ тектонско раседање

_____ ледничка ерозија

(2 x 5 = 10)

17. На колико мора излази Авганистан? _____

(2)

18. Које ћете од понуђених локација изабрати као најпогодније за гајење винове лозе?

а) Месопотамију

б) долину Меконга

в) Средоземну обала Марока

г) побрђе Јужноафричке Републике

д) централне делове Монголије

(2 x 2 = 4)

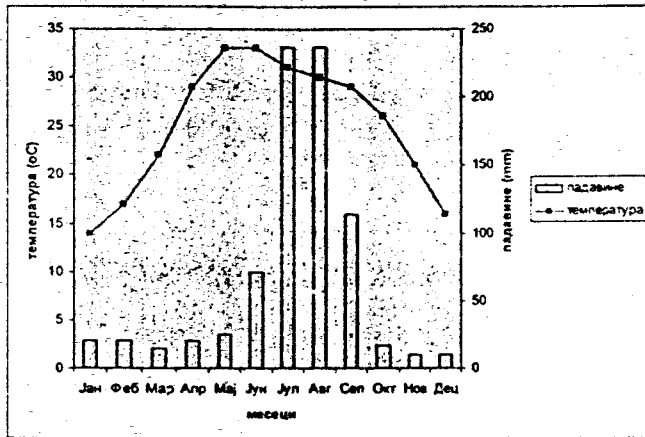
19. Подвуците појмове из наведеног низа који се не односе на Кину.

камени угаљ кафа Таримска котлина нафта Хан чај Фуџи

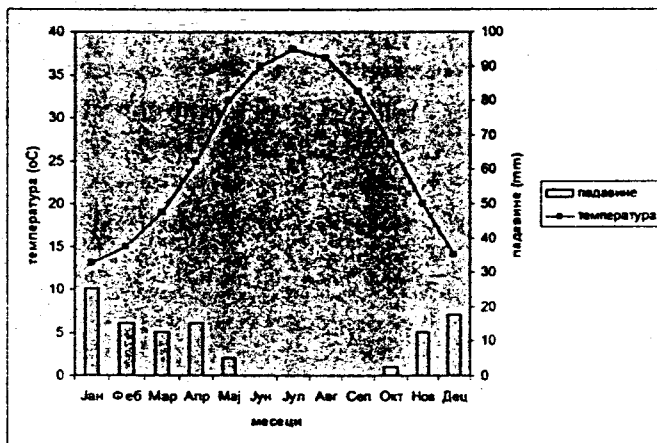
(2 x 2 = 4)



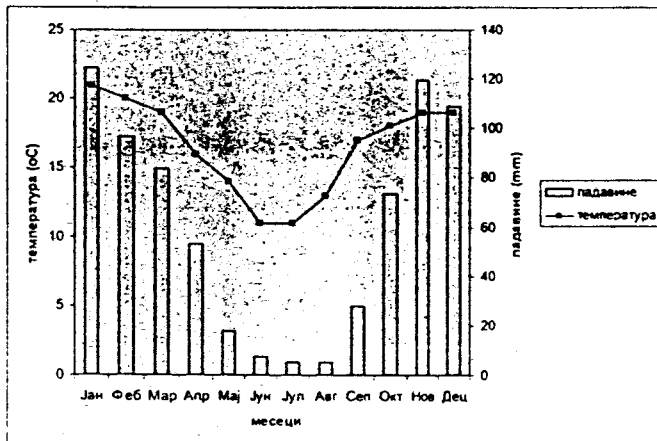
20. На слици су приказана три климадијаграма која приказују климу три града. Упишите који климадијаграм одговора којем од понуђених градова: Њу Делхи, Јоханесбург и Кувајт Сити.



а)



б)



в)

(3 x 3 = 9)

21. Повежите биљне заједнице са државама у којима је карактеристично њихово појављивање:

- а) степе _____ Либан
- б) саване _____ Уганда
- в) средоземне шуме _____ Јерменија

(2 x 3 = 6)



Укупан број бодова: 100

Такмичар је на тесту освојио _____ бодова

Чланови комисије:

- 1) _____
- 2) _____
- 3) _____



Општинско такмичење из географије за 7. разред

1. г
2. в
3. Н, Н, Т, Т
4. 4, 3, 2, 1
5. а
6. Турска
7. Апартхејд (признати и: расна дискриминација, сегрегација), избори, Мендела (Мандела)
8. б
9. Н, Н, Н, Т
10. б
11. Екватор
12. планина (признати и: планински ланац или неактивни вулкан); афричком; висораван; азијском.
13. Викторијино или Укереве језеро
14. а) Африка; б) Азија; в) Африка; г) Азија.
15. в
16. в; а; /; б; г.
17. ни једно (или: 0)
18. в; г.
19. кафа и Фуџи
20. а) Њу Делхи; б) Кувајт Сити; в) Јоханесбург.
21. в, б, а