


МИНИСТАРСТВО ПРОСВЕТЕ РЕПУБЛИКЕ СРБИЈЕ  
И СРПСКО ГЕОГРАФСКО ДРУШТВО

---

ОПШТИНСКО ТАКМИЧЕЊЕ ИЗ ГЕОГРАФИЈЕ  
ЗА 8. РАЗРЕД



Београд, 2011.



## УПУТСТВО ЗА РАД

Пред вама је тест знања из географије за 8. разред. Питања обухватају градиво редовне и додатне наставе 5, 6. и 8. разреда. На крају сваког питања (број у загради) уписан је број могућих бодова којима се вреднују одговори.

На текстуална питања одговор је потребно написати читко, без прецртавања, обавезно хемијском оловком. Поједини задаци садрже вишеструки избор. Потребно је пронаћи тачан или тачне одговоре и заокружити слова које се налазе испред њих. Ако заокружите више одговора од траженог броја, задатак се неће признати. Код задатака типа допуњавања, захтев је дат у облику непотпуног исказа. Потребно је допунити или завршити реченице да би исказ био тачан и јасан. Код неких питања задаци су дати у две колоне. Ваш задатак је да повежете, тј. "спарите" податке из колоне, тако што ћете читко уписивати слова из једне колоне на линије које се налазе испред друге колоне (спаривања стрелицама или дописивање неће се вредновати). Код задатака где се тражи да упишете одговоре на линије, упишите их јасно и тачно, без накнадног прецртавања и дописивања одговора.

На директна питања потребно је одговорити кратко и јасно. Прецртавање или накнадно дописивање одговора се неће вредновати.

Време за решавање свих задатака је 90 минута. Уколико завршите раније, тихо и без ометања других такмичара можете изаћи из учионице.

**Желимо вам пуно успеха у раду!**

Задатке предложили:

др Јелена Ћалић

мр Марко В. Милошевић

Рецензент:

др Љиљана Живковић



1. Заокружите тачан одговор.

Која од наведених бања се налази на обронцима Фрушке горе?

- а) Врдник
- б) Врујци
- в) Русанда
- г) Палићка бања

(2)

2. Заокружите тачан одговор.

Ког датума на јужном поларнику ноћ траје 24 сата?

- а) 21. март
- б) 22. јун
- в) 23. септембар
- г) 21. децембар

(2)

3. Која Моравица је саставница Западне Мораве? \_\_\_\_\_

(2)

4. Заокружите тачан одговор.

Земљотрес који је 3. новембра 2010. погодио Краљево може се сматрати за једну од последица

- а) сударања Евроазијске и Северноамеричке плоче
- б) размицања Афричке и Арабијске плоче
- в) сударања Евроазијске и Афричке плоче
- г) размицања Назка и Кокос плоче

(2)

5. Заокружите тачан одговор.

Који од наведених бројева је најближи укупном броју данашњег становништва на Земљи?

- а) 6.556.000
- б) 6.750.000.000
- в) 9.223.000.000
- г) 686.450.000

(2)

6. Поред назива планине упишите слово **Д** ако припада Динарским, или слово **К** ако припада Карпатско-балканским планинама:

- а) Сува планина \_\_\_\_\_
- б) Дели Јован \_\_\_\_\_
- в) Кучај \_\_\_\_\_
- г) Голија \_\_\_\_\_
- д) Тара \_\_\_\_\_

(2 x 5 = 10)

7. Повежите биљне и животињске врсте са просторима њиховог типичног распрострањења:

- а) Панчићева оморика \_\_\_\_\_ Увац
- б) 147 врста лептира \_\_\_\_\_ Шар-планина
- в) росуља \_\_\_\_\_ Фрушка гора
- г) шуме храста \_\_\_\_\_ Тара
- д) белоглави суп \_\_\_\_\_

(2 x 4 = 8)



8. Израчунајте размер карте ако је на њој 550 m представљено са 22 mm. \_\_\_\_\_

Којој врсти карата припада та карта?

- а) ситноразмерна карта
- б) план
- в) топографска карта

(2 + 2 = 4)

9. Заокружите тачан одговор.

Ако је у Панонској низији ваздушни притисак 970 милибара, а на простору обода Панонског басена 1050 милибара, у ком правцу ће дувати ветар?

- а) са југа на север
- б) са истока на запад
- в) са запада на исток
- г) са севера на југ

(2)

10. Заокружите тачне одговоре.

Који су од наведених облика рељефа карактеристични за Косово и Метохију?

- а) лесне заравни
- б) котлине
- в) крашка поља
- г) речне долине
- д) клифови

(2 + 2 = 4)

11. Заокружите тачан одговор.

У којем од наведених насеља је позитиван природни прираштај?

- а) Кикинда
- б) Књажевац
- в) Пећ
- г) Пирот

(2)

12. Повежите хидролошке и климатске појмове са њиховим величинама и јединицама:

- а) протицај Дрине на ушћу у Саву \_\_\_\_\_ 530 mm
- б) падавине у Банату током 2010. године \_\_\_\_\_ 250 l/s
- в) падавине на Проклетијама током 2010. године \_\_\_\_\_ 395 m<sup>3</sup>/s
- г) средња годишња температура у Београду \_\_\_\_\_ 1685 mm
- д) минимална јануарска температура у Сјеници \_\_\_\_\_ 11°C
- ђ) протицај потока Јеловарник на Копаонику \_\_\_\_\_

(2 x 5 = 10)

13. Да ли у Панонској низији има букових шума? Зашто?

\_\_\_\_\_

(1 + 2 = 3)



14. Са којим чланицама Европске уније се граничи Србија?

\_\_\_\_\_;

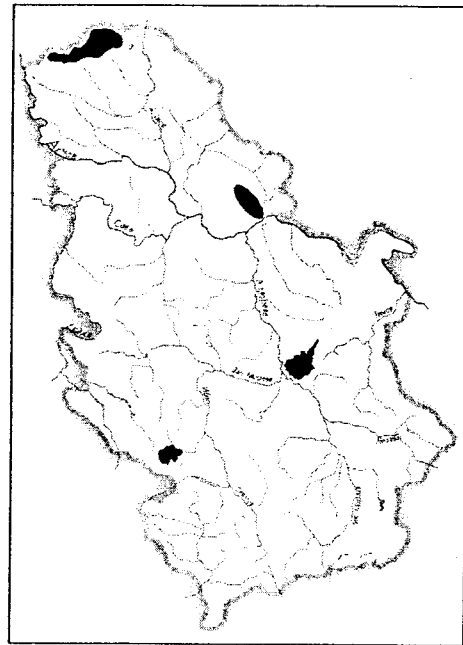
(1 x 3 = 3)

15. Повежите појмове са одговарајућим процесом услед кога је настао њихов рељеф:

- |                         |                        |
|-------------------------|------------------------|
| а) Кањон Росомачке реке | _____ ледничка ерозија |
| б) Левачка котлина      | _____ речна ерозија    |
| в) Цирк Мале Враце      | _____ еолски рељеф     |
| г) Банатска пешчара     | _____ тектоника        |
| д) Ресавска пећина      | _____ крашки процес    |
|                         | _____ абразија         |

(2 x 5 = 10)

16. На карти је црном бојом приказан распоред пешчара у Србији. Неке од површина су погрешно уцртане, тј. налазе се на месту где нема пешчара. Заокружите их на карти.



(2 + 2 = 4)

17. Иза реченица које су тачне упишите слово **Т**, а иза нетачних слово **Н**.

- а) Србија се налази западно од Гриничког меридијана. \_\_\_\_\_
- б) На територији Бачке нема планина. \_\_\_\_\_
- в) Последњи попис становништва Србије је био 2001. године. \_\_\_\_\_
- г) На територији Војводине се налази један национални парк. \_\_\_\_\_

(2 x 4 = 8)

18. Заокружите планину која не припада групи осталих наведених планина.

ДЕЛИ ЈОВАН, МИРОЧ, ОЗРЕН, ДУКАТ, КУЧАЈ, ДЕВИЦА, РТАЊ.

(2)

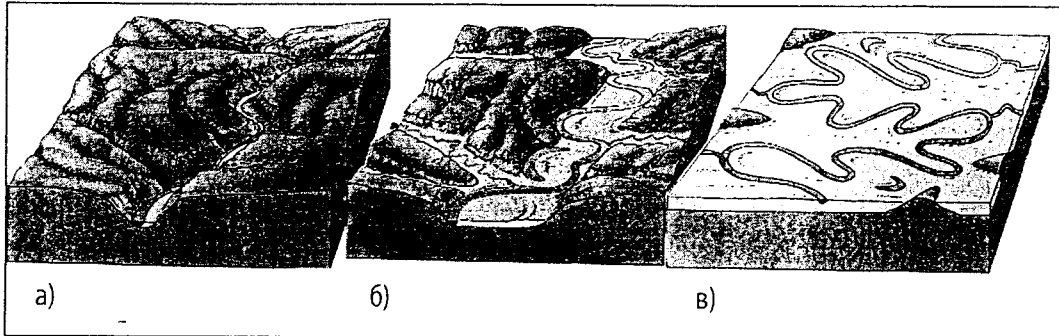
19. Допуните реченице. Посматрајмо климатске елементе два језера у Србији, Палићког и Власинског.

- а) Већу средњу годишњу температуру ваздуха има \_\_\_\_\_ језеро.
- б) Већу годишњу количину падавина има \_\_\_\_\_ језеро.

(2 + 2 = 4)



20. Заокружите тачан одговор. Који од терена на приложеним скицама задовољава услов за изградњу акумулације (вештачког језера) за потребе производње електричне енергије?



(2)

21. Заокружите општине у којима су Срби већинско становништво.

- а) Пожега
- б) Прешево
- в) Параћин
- г) Тутин
- д) Босилеград

(2 x 2 = 4)

22. У наведеним реченицама, **подебљаним** словима су наведени појмови од којих је један тачан, а један нетачан. У свакој реченици заокружите појам који је тачан.

- а) У централној Србији је **позитиван / негативан** природни прираштај.
- б) Србија је **континентална / медитеранска** држава.
- в) Нишава је усекла **Грделичку / Сићевачку** клисуру.
- г) Ђаци који иду у школу из једног места у друго представљају **сезонске / дневне** мигранте.
- д) Врањска бања је позната по изворима **хладне / топле** минералне воде.

(2 x 5 = 10)

Такмичар је на тесту освојио \_\_\_\_\_ бодова

Укупан број бодова: 100

Чланови комисије:


- 1) \_\_\_\_\_
- 2) \_\_\_\_\_
- 3) \_\_\_\_\_

МИНИСТАРСТВО ПРОСВЕТЕ РЕПУБЛИКЕ СРБИЈЕ  
И СРПСКО ГЕОГРАФСКО ДРУШТВО

---

ОПШТИНСКО ТАКМИЧЕЊЕ ИЗ ГЕОГРАФИЈЕ  
ЗА 8. РАЗРЕД

- Решења -



Београд, 2011.



1. а
2. б
3. Голијска
4. в
5. б
6. К, К, К, Д, Д
7. д, б, г, а
8. 1:25.000; в
9. а
10. б, г
11. в
12. б, њ, а, в, г
13. Не. Због надморске висине.
14. Мађарска, Румунија, Бугарска (редослед није важан)
15. в, а, г, б, д
16. Треба заокружити црне површине на ушћу Јужне и Западне Мораве и на Пештерској висоравни.
17. Н, Т, Н, Т
18. Дукат – Српско-македонска маса.
19. а) Палићко језеро; б) Власинско језеро.
20. а
21. а, в
22. негативан; континентална; Сићевачку; дневне; топле.