


МИНИСТАРСТВО ПРОСВЕТЕ РЕПУБЛИКЕ СРБИЈЕ
И СРПСКО ГЕОГРАФСКО ДРУШТВО

ОПШТИНСКО ТАКМИЧЕЊЕ ИЗ ГЕОГРАФИЈЕ
ЗА 8. РАЗРЕД



Београд, 2010.



УПУТСТВО ЗА РАД

Пред вама је тест знања из географије за 8. разред. Питања обухватају градиво редовне и додатне наставе 5, 6. и 8. разреда. На крају сваког питања (број у загради) уписан је број могућих бодова којима се вреднују одговори.

На текстуална питања одговор је потребно написати читко, без прецртавања, обавезно хемијском оловком. Поједини задаци садрже вишеструки избор. Потребно је пронаћи тачан или тачне одговоре и заокружити слова које се налазе испред њих. Ако заокружите више одговора од траженог броја, задатак се неће признати. Код задатака типа допуњавања, захтев је дат у облику непотпуног исказа. Потребно је допунити или завршити реченице да би исказ био тачан и јасан. Код неких питања задаци су дати у две колоне. Ваш задатак је да повежете, тј. "спарите" податке из колоне, тако што ћете читко уписивати слова из једне колоне на линије које се налазе испред друге колоне (спаривања стрелицама или дописивање неће се вредновати). Код задатака где се тражи да упишете одговоре на линије, упишите их јасно и тачно, без накнадног прецртавања и дописивања одговора.

На директна питања потребно је одговорити кратко и јасно. Прецртавање или накнадно дописивање одговора се неће вредновати.

Време за решавање свих задатака је 90 минута. Уколико завршите раније, тихо и без ометања других такмичара можете изаћи из учионице.

Желимо вам пуно успеха у раду!

Задатке предложили:

мр Јована Бранков

мр Марко В. Милошевић

Рецензент:

др Љиљана Живковић



1. Заокружите тачан одговор.

Кроз територију Србије пролазе:

- а) северни упоредници
- б) јужни упоредници

Упоредници означавају:

- а) географску дужину
- б) географску ширину

(1 + 2 = 3)

2. Допуните реченицу.

Стиг је област у централној Србији која се налази у сливу реке _____.

(2)

3. Заокружите тачан одговор.

Србија се граничи са Европском унијом од 2004. године.

- а) да
- б) не

(2)

4. Допуните реченицу.

Средњи и доњи ток реке Тисе настао је после повлачења _____.


(2)

5. Иза реченица које су тачне упишите слово „Т“, а иза нетачних слово „Н“.

- а) Сунце је Земљи најближе небеско тело. _____
- б) Сунце је Земљи најближа звезда. _____
- в) Млечни пут је звездани систем. _____
- г) Васиону и васионска тела проучава наука која се зове астрологија. _____
- д) Јупитер је највећа планета Сунчевог система. _____

(2 x 5 = 10)

6. Који тип рељефа је приказан на слици? _____



У којим стенама је изграђен приказани рељеф:

- а) магматским стенама
- б) кречњачким стенама

(2 x 2 = 4)

7. Наведите све морске сливове у које отичу реке Србије.

_____ (1 x 3 = 3)



8. Повежите појмове са одговарајућим доминантним процесом услед кога су настали:

- | | | | |
|--------------------------|-------|-------|-------|
| а) Церемошња | _____ | _____ | _____ |
| б) Руговска клисура | _____ | _____ | _____ |
| в) Делиблатска пешчара | _____ | _____ | _____ |
| г) Фрушка Гора | _____ | _____ | _____ |
| д) Алувијална равна Тисе | _____ | _____ | _____ |

(2 x 5 = 10)

9. Заокружите тачан одговор.

У Европи се екумена простире и испод нивоа мора.

- а) да
б) не

(2)

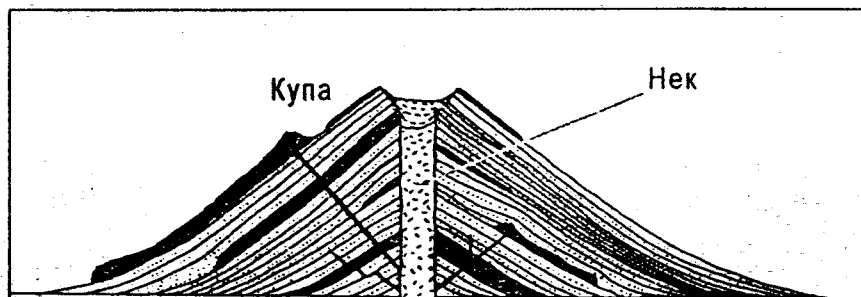
10. На карти је измерено ваздушно растојање између две тачке од 10 mm. У природи то растојање износи 1 km. Одредите размеру карте. _____

(2)

11. Заокружите тачан одговор.

Облик рељефа приказан на слици настао је радом:

- а) унутрашњих сила
б) спољашњих сила



Да ли оваквих облика рељефа има на територији Србије? _____

(2 x 2 = 4)

12. Наведите основне типове насеља. _____

(1 x 2 = 2)

13. У наведеним реченицама, дебелим словима су наведени појмови од којих је један тачан, а један нетачан. У свакој реченици заокружите појам који је тачан.

Србија се на југу граничи са **Македонијом/Румунијом**.

Гранична река између Србије и Босне и Херцеговине је **Дрина/Дунав**.

Србија се **граничи/не граничи** на западу са чланицама Европске уније.

Градина (Димитровград) је гранични прелаз Србије према **Румунији/Бугарској**.

(1 x 4 = 4)



14. Привремено пресељење становништва ради обављања пољопривредних послова представља:

- а) Стихијске миграције
- б) Савремене миграције
- в) Сезонске миграције

(2)

15. Ако у једном насељу број живорођених износи 1350, број умрлих 1200 лица, а знамо да то насеље има 60000 становника, израчунајте стопу природног прираштаја

(2)

16. Линије које на картама спајају тачке исте надморске висине зову се _____.

(2)

17. Привредна делатност у којој је запослен највећи проценат становништва Србије је _____ и припада _____ сектору делатности.

(2 x 2 = 4)

18. Заокружите општине у којима већинско становништво чине Бошњаци:

- а) Прешево
- б) Кањижа
- в) Прибој
- г) Сјеница
- д) Нови Пазар

(2 x 2 = 4)

19. Наведите три најбројније националне мањине у Војводини и централној Србији:

(2 x 3 = 6)

20. Допуните реченицу.

Највише стално насеље у Србији које се налази на надморској висини изнад 1680 m је _____.

(2)

21. Допуните реченицу.

Воде које садрже више од 1 g растворених материја у једном литру и имају лековито дејство зову се _____ воде.

(2)

22. Допуните реченице.

Уколико су куће у селу концентрисане једна близу друге, кажемо да то село припада _____ типу сеоских насеља. Ако знамо да се оно налази у Војводини, по постанку спада у _____ основана насеља.

(2 x 2 = 4)



23. Повежите привремена насеља са областима за које су карактеристична:

- а) Бачије
- б) Салаши
- в) Колебе
- г) Пољане

- _____ Војводина
- _____ Мачва
- _____ Александровачка Жупа
- _____ Планинске области

(2 x 4 = 8)

24. Допуните реченицу.

Ако се највећи број становника неког места бави земљорадњом, доминантан сектор привреде је _____, а ако је већина запослена у туризму, доминантан је _____ сектор.

(2 x 2 = 4)

25. Заокружите тачан одговор.

Ако је у некој регији квартални сектор привреде доминантан, у којим делатностима је запослен највећи број њених становника?

- а) Саобраћај
- б) Угоститељство
- в) Просвета
- г) Култура
- д) Занатство

(2 x 2 = 4)

26. Допуните реченицу.

Сталне дневне миграције су углавном заступљене на релацији _____ - _____ и у њима најчешће учествују _____ и _____.

(2 x 3 = 6)

Укупан број бодова: 100

Такмичар је на тесту освојио _____ бодова

Чланови комисије:

- 1) _____
- 2) _____
- 3) _____



Општинско такмичење из географије за 8. разред

1. а, б

2. Млаве

3. а

4. Панонског мора (језера)

5. Н, Т, Т, Н, Т

6. Крашки рељеф (признати и одговор: пећина), б

7. Црноморски, Егејски, Јадрански (Црно море, Егејско море, Јадранско море)

8. Редослед: /, г, а, в, б, д

9. а

10. 1:100.000

11. а, да (има)

12. градска и сеоска

13. Македонијом, Дрина, не граничи, Бугарској

14. в

15. $1350-1200/60.000 \times 1000 = 2,5 \text{ ‰}$

16. Изохипсе

17. Индустрија, секундарном

18. г, д

19. Мађари, Бошњаци, Роми (редослед није битан)

20. Копаоник

21. минералне

22. Збијеном, плански

23. б; в; г; а

24. Примарни, терцијарни

25. в, г

26. Село-град, радници и ученици