


МИНИСТАРСТВО ПРОСВЕТЕ И НАУКЕ РЕПУБЛИКЕ СРБИЈЕ
И СРПСКО ГЕОГРАФСКО ДРУШТВО

ОПШТИНСКО ТАКМИЧЕЊЕ ИЗ ГЕОГРАФИЈЕ
ЗА 7. РАЗРЕД



Београд, 2012.



УПУТСТВО ЗА РАД

Пред вама је тест знања из географије за 7. разред. Питања обухватају градиво редовне и додатне наставе 5, 6. и 7. разреда. На крају сваког питања (број у загради) уписан је број могућих бодова којима се вреднују одговори.

На текстуална питања одговор је потребно написати читко, без прецртавања, обавезно хемијском оловком. Поједини задаци садрже вишеструки избор. Потребно је пронаћи тачан или тачне одговоре и заокружити слова које се налазе испред њих. Ако заокружите више одговора од траженог броја, задатак се неће признати. Код задатака типа допуњавања, захтев је дат у облику непотпуног исказа. Потребно је допунити или завршити реченице да би исказ био тачан и јасан. Код неких питања задаци су дати у две колоне. Ваш задатак је да повежете, тј. "спарите" податке из колоне, тако што ћете читко уписивати слова из једне колоне на линије које се налазе испред друге колоне (спаривања стрелицама или дописивање неће се вредновати). Код задатака где се тражи да упишете одговоре на линије, упишите их јасно и тачно, без накнадног прецртавања и дописивања одговора.

На директна питања потребно је одговорити кратко и јасно. Прецртавање или накнадно дописивање одговора се неће вредновати.

Време за решавање свих задатака је 90 минута. Уколико завршите раније, тихо и без ометања других такмичара можете изаћи из учионице.

Желимо вам пуно успеха у раду!

Задатке предложили:

мр Јелена Ковачевић-Мајкић

мр Ана Милановић

Рецензент:

др Љиљана Живковић



1. Допуните реченицу:

Подручје између 15°30 S и 8°30 N захвата _____ (израчунати колико?) степени географске ширине и у том интервалу налази се _____ топлотни појас.

(2x2=4)

2. Заокружите тачан одговор:

Композитна долина настаје услед:

- а) еолске ерозије
- б) речне ерозије
- в) абразије
- г) таложења наноса

(2)

3. Заокружите тачан одговор. Да ли све државе Пиринејског полуострва чланице Европске Уније?

- а) да
- б) не

(2)

4. Наведите одговарајуће јединице мере:

Количина падавина изражава се у _____, а висина снежног покривача у _____.

(2x2=4)

5. Допуните реченицу.

На карти 1:50000 деоница пута дуга 10 km је представљена линијом дугом _____ cm.

(2)

6. Замислите да листате новине и читате наслове и поднаслове чланака. Користећи знање географије које сте до сада стекли током школовања, одредите који наслови могу да буду тачни, а који не. Догађаје који су могући означите знаком плус (+), а оне који су немогући, знаком минус (-).

- а) Улан Батор страдао од разарајућег цунамија. _____
- б) Веома високе температуре, преко 40°C, забележене у Кејптауну у фебруару. _____
- в) Земљотрес од 4 степена MCS скале нанео велике штете становништву Хаитија. _____
- г) Шумски пожари бесне на југу Монголије. _____

(4x2=8)

7. Повежите сливове и реке које им припадају.

- а) слив Атлантског океана _____ Јангцејанг
- б) слив Тихог океана _____ Замбези
- в) слив Индијског океана _____ Лена
- г) слив Северног леденог океана _____ Дњепар
- _____ Годавари

(5x2=10)



8. Заокружите тачан одговор. Која земља од понуђених има најмању густину насељености?

- а) Монголија
- б) Француска
- в) Турска

(2)

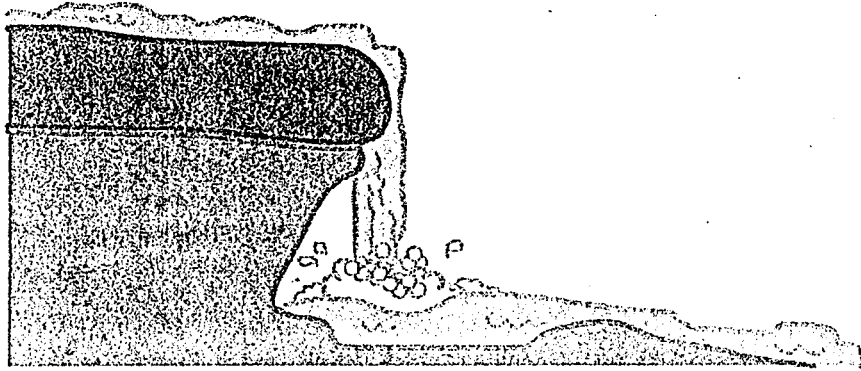
9. Заокружите тачан одговор. Назив реке Хоангхо (Жута река) потиче од

- а) речног наноса који садржи честице злата
- б) лесног речног наноса
- в) жуте расе која живи у његовом сливу

(2)

10. Допуните реченицу.

На слици је приказан процес _____ ерозије.



(2)

11. Повежите географске појмове и њихове дефиниције.

- | | |
|-----------|----------------------|
| а) ерг | ___ стални ветар |
| б) естуар | ___ тип речног ушћа |
| в) пасат | ___ тип пустиње |
| г) монсун | ___ тип залива |
| | ___ периодични ветар |

(5x2=10)

12. Допуните следеће реченице.

У Африци је од привредних делатности најзаступљенија _____. По својим одликама она је _____.

(2x2=4)

13. Заокружите тачан одговор. Ако у 13 часова позовете рођака који живи у Либервилу да ли ћете га пробудити?

- а) да
- б) не

(2)



14. Поређајте реке по дужини тако што ћете им доделити бројеве од 1 до 4. Број 1 доделите најдужој, а број 4 најкраћој.

_____ Меконг _____ Шат ел Араб _____ Нил _____ Сир Дарја

(4 x 1 = 4)

15. Заокружите тачан одговор. Број становника у Азији и Африци данас има:

- а) опадајући тренд
- б) растући тренд

(2)

16. Заокружите тачне одговоре:

- а) У граду Акри у Гани, који се налази на $5^{\circ} 33' N$ и $0^{\circ} 12' W$, просечна годишња температура је:
 - а) мања од 12°
 - б) већа од 12°

б)а просечна количина падавина је:

- а) мања од 600 mm
- б) већа од 600 mm

(2x2=4)

17. Слојите називе (топониме) са облицима рељефа који представљају.

- | | |
|------------------|-----------------|
| а) Декан | _____ архипелаг |
| б) Кенија | _____ мореуз |
| в) Баб ел Мандеб | _____ острво |
| г) Филипини | _____ вулкан |
| д) Тенерифе | _____ висораван |
| | _____ лагуна |

(2x5=10)

18. Допуните реченицу:

Африка представља развође између _____, _____ и _____

(2x3=6)

19. Заокружите тачан одговор:

У којој од наведених регија су најбољи природни услови за гајење банана?

- а) Далеки исток
- б) Југозападна Азија
- в) Тропска Африка
- г) Северозападна Африка

(2)



20. Иза тачних одговора упишите слово Т, а иза нетачних слово Н.

- а) На реци Замбези налази се престоница Хараре. _____
- б) Тунис је један од највећих светских произвођача чаја. _____
- в) Пакистан је 70-их година прошлог века подељен на 2 државе. _____
- г) Дужина морске обале Нигера износи око 500 km. _____
- д) У Индонезији се производи каучук. _____

(2x5=10)

21. Повежите верске заједнице и речне долине које углавном насељавају.

- а) Муслимани _____ Ганг
- б) Јевреји _____ Еуфрат
- в) Хиндуси _____ Сикјанг
- г) Будисти _____

(2x3=6)

22. У којој држави живи највећи број Бура?

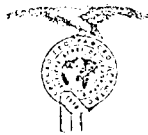
(2)

Укупан број бодова: 100

Такмичар је на тесту освојио _____ бодова

Чланови комисије:

- 1) _____
- 2) _____
- 3) _____



РЕШЕЊА

1. 24°, жарки
2. б
3. б
4. mm, cm
5. 20 cm
6. -, +, -, -
7. б, в, г, а, в
8. а
9. б
10. флувијалне (речне)
11. в, б, а, -, г
12. пољопривреда, екстензивна
13. б
14. 2, 4, 1, 3
15. б
16. б, б
17. г, в, д, б, а, -
18. Средоземног мора, Атлантског океана и Индијског океана
19. в
20. Н, Н, Т, Н, Т
21. в, а, г
22. Јужноафричкој републици