

**Република Србија**

**МИНИСТАРСТВО ПРОСВЕТЕ**

**И СРПСКО ГЕОГРАФСКО ДРУШТВО**

**05.04.2008. године**

**Београд**

**РЕГИОНАЛНО ТАКМИЧЕЊЕ**

**ГЕОГРАФИЈА – 7. РАЗРЕД**

**НАПОМЕНА:**

Пре попуњавања теста, пажљиво прочитајте упутство за рад!

## УПУТСТВО ЗА РАД

Пред вама је тест знања из географије за 7. разред. Питања обухватају градиво редовне и додатне наставе 5, 6. и 7. разреда. На крају сваког питања (број у загради) уписан је број могућих бодова којима се вреднују одговори.

На текстуална питања одговор је потребно написати читко, без прецртавања, обавезно хемијском оловком. Поједини задаци садрже вишеструки избор. Потребно је пронаћи тачан или тачне одговоре и заокружити слова које се налазе испред њих. Ако заокружите више одговора од траженог броја, задатак се неће признати. Код задатака типа допуњавања, захтев је дат у облику непотпуног исказа. Потребно је допунити или завршити реченице да би исказ био тачан и јасан. Код неких питања задаци су дати у две колоне. Ваш задатак је да повежете, тј. "спарите" податке из колоне, тако што ћете читко уписивати слова из једне колоне на линије које се налазе испред друге колоне (спаривања стрелицама или дописивање неће се вредновати). Код задатака где се тражи да упишете одговоре на линије, упишите их јасно и тачно, без накнадног прецртавања и дописивања одговора.

На директна питања потребно је одговорити кратко и јасно. Прецртавање или накнадно дописивање одговора се неће вредновати.

Време за решавање свих задатака је 90 минута. Уколико завршите раније, тихо и без ометања других такмичара можете изаћи из учионице.

**Желимо вам пуно успеха у раду!**

Задатке предложили:  
мр Јелена Талић  
Марко В. Милошевић

Рецензент: др Љиљана Живковић

1. Заокружите тачан одговор:

На којем острву се налази област Сабах?

- а) Борнео
- б) Јава
- в) Суматра
- г) Бали

Којој држави припада ова област? \_\_\_\_\_

(2 x 2 = 4)

2. Спојите државе и регије којима припадају.

- а) Брунеј \_\_\_\_\_ Сахел
- б) Судан \_\_\_\_\_ Магреб
- в) Бутан \_\_\_\_\_ Југоисточна Азија
- г) Либија \_\_\_\_\_ Јужна Азија
- д) Либерија \_\_\_\_\_ Јужна Африка
- ђ) Коморска острва \_\_\_\_\_

(5 x 2 = 10)

3. Са ког континента потиче негроидно становништво САД-а? \_\_\_\_\_

У ком веку је званично укинуто ропство у САД-у? \_\_\_\_\_

(2 x 2 = 4)

4. Допуните реченице:

Европски морепловац који је, стигавши до Бахамских острва, мислио да је допловио у источну Индију звао се \_\_\_\_\_. Морепловац који је схватио да је у питању нови континент, и дао му име Нови свет, звао се \_\_\_\_\_.

(2 x 2 = 4)

5. Заокружите једну од наведених држава која према положају територије нема особину својствену свим осталим понуђеним државама.

ИРАН, ЕГИПАТ, ЧАД, ЦРНА ГОРА, ВИЈЕТНАМ

(2)

6. Заокружите тачан одговор.

У којој држави је постојао апартхејд?

- а) Либерија
- б) Етиопија
- в) Јужноафричка Република
- г) Мали

(2)

7. Повежите пољопривредне производе и државе САД-а за које су карактеристични:

- а) Ајова \_\_\_\_\_ памук
- б) Канзас \_\_\_\_\_ пшеница
- в) Јужна Каролина \_\_\_\_\_ кукуруз
- г) Кентаки \_\_\_\_\_ ананас
- д) Хаваји \_\_\_\_\_ дуван

(5 x 2 = 10)

8. Да сте могли да пловите Нилом пре изградње Асуанске бране, на шта бисте морали да обратите пажњу да бисте имали безбедну пловидбу? \_\_\_\_\_

(2)

9. Да ли постоји копнена граница између Европске Уније и неке азијске државе?

а) ДА

б) НЕ

Како се назива држава која физичко-географски припада Азији, а чланица је Европске Уније? \_\_\_\_\_

(2 x 2 = 4)

10. Колико држава се простире дуж планинског система Кавказа? \_\_\_\_\_

Које су то државе? \_\_\_\_\_

(5 x 1 = 5)

11. На ком континенту се налази најмањи број држава? \_\_\_\_\_

(2)

12. Заокружите тачне констатације:

а) У току 2005. године на Малдивима је прорадио вулкан.

б) Цунами из децембра 2004. године погодио је државу Лаос.

в) У Непалу се налазе хиљаде ледничких језера.

г) Град Мека је угрожен честим поплавама.

д) Сингапур се, због свог географског положаја, често назива „Источни Гибралтар“.

(2 x 2 = 4)

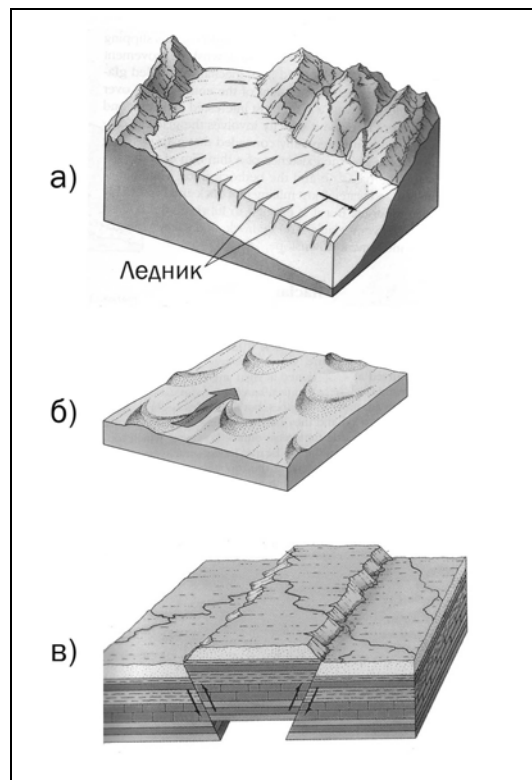
13. Допуните реченицу:

Спајањем конурбација настају \_\_\_\_\_

(2)

14. Заокружите тачан одговор.

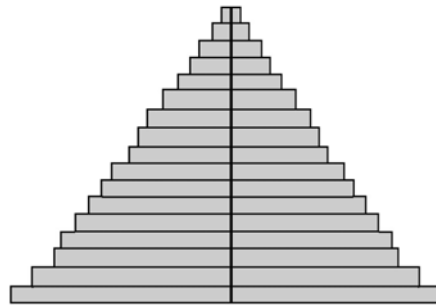
Који од наведених облика рељефа није карактеристичан за Саудијску Арабију?



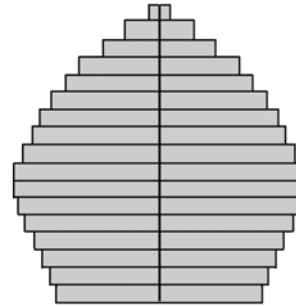
(2)

15. Заокружите тачан одговор.

Која пирамида осликава демографску слику држава Средњег Истока.



а



б

(2)

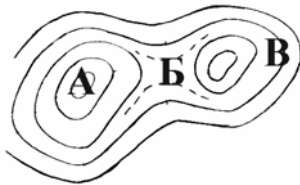
16. Која планета Сунчевог система има највећи број природних сателита („месеца“)?

\_\_\_\_\_

(2)

17. Заокружите тачан одговор.

Којим словом је приказан превој (седло) у рељефу, ако линије на слици представљају изохипсе?



а) А

б) Б

в) В

(3)

18. Заокружите слово испред речи којом треба допунити следећу реченицу:

На Филипинима се јуче догодио снажан земљотрес, јачине 7 степени Рихтерове скале, чији \_\_\_\_\_ је био на око 6000 метара дубине.

а) епицентар

б) хипоцентар

в) центар

(2)

19. Поред следећих тврдњи упишите слово Т ако су тачне, или слово Н ако су нетачне:

а) Један од озбиљних проблема Африке је ширење пустиња због интензивне сече шума.

б) Нафта је једно од главних природних богатстава Источне Африке. \_\_\_\_\_

в) У сиромашним предграђима јужноазијских градова живе углавном људи који су